

Диагностическая работа по географии. 7 класс.

1 вариант.

A1. Пассивно плавающие организмы, обитающие в Мировом океане, называются:

- а) планктон
- б) нектон
- в) детрит
- г) бентос

A2. Постоянные ветры, господствующие в умеренных широтах, называются:

- а) западные
- б) пассаты
- в) муссоны
- г) стоковые

A3. Древнейшие, относительно устойчивые и выровненные участки земной коры называются:

- а) равнины
- б) литосферные плиты
- в) складчатые пояса
- г) платформы

A4. Какой современный материк НЕ входил в состав Гондваны?

- а) Южная Америка
- б) Северная Америка
- в) Антарктида
- г) Австралия

A5. Люди, живущие на одной территории, говорящие на одном языке и имеющие общую культуру, называются:

- а) народ
- б) этнос
- в) раса
- г) нация

При ответе на вопросы **B1-B3** используйте рисунок 1.

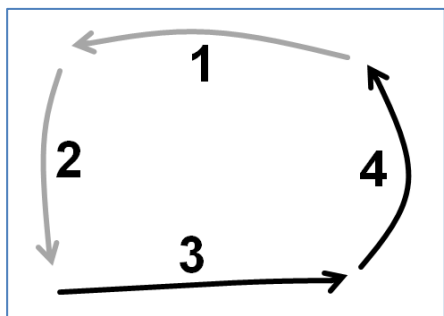


Рисунок 1. Схема течений

B1. Укажите номера стоковых течений, образовавшихся из-за избытка воды в определённой части океана

B2. Укажите номер течения, в образовании которого сыграли большую роль пассаты

B3. Для какого полушария Земли приведена данная схема?

При ответе на вопросы **B4-B6** используйте рисунок 2.



Рисунок 2. Взаимодействие литосферных плит

B4. Укажите, как взаимодействуют литосферные плиты на данном рисунке и назовите их тип (материковая/океаническая)

B5. Какие тектонические процессы сопровождают данное взаимодействие?

B6. Приведите пример территории, где наблюдается данное взаимодействие

C1. Солёность океанической воды. В чём измеряется, от чего зависит, как изменяется в зависимости от географической широты.

C2. Расселение человека по материкам. Родина человека, как шло расселение в Америку и Австралию.

2 вариант.

A1. Организмы, живущие на дне Мирового океана, называются:

- а) нектон
- б) планктон
- в) детрит
- г) бентос

A2. Постоянные ветры, возникающие между тропическими и экваториальными широтами, называются:

- а) стоковые
- б) пассаты
- в) западные
- г) муссоны

A3. Пограничные области между литосферными плитами называются:

- а) сейсмические пояса
- б) горы
- в) зоны разломов
- г) платформы

A4. Какой материк входил в состав Гондваны?

- а) Пангея
- б) Северная Америка
- в) Африка
- г) Евразия

A5. Как называются карты, на которых изображена хозяйственная деятельность населения материков?

- а) физические
- б) комплексные
- в) контурные
- г) политические

При ответе на вопросы **B1-B3** используйте рисунок 1.

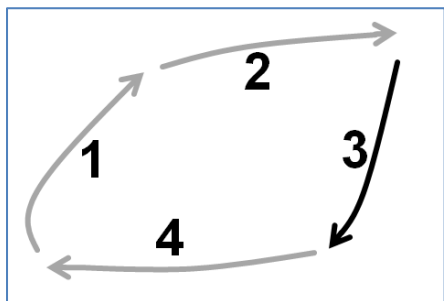


Рисунок 1. Схема течений

B1. Укажите номера стоковых течений, образовавшихся из-за избытка воды в определённой части океана

B2. Укажите номер течения, в образовании которого сыграли большую роль ветры умеренных широт

B3. Для какого полушария Земли приведена данная схема?

При ответе на вопросы **B4-B6** используйте рисунок 2.

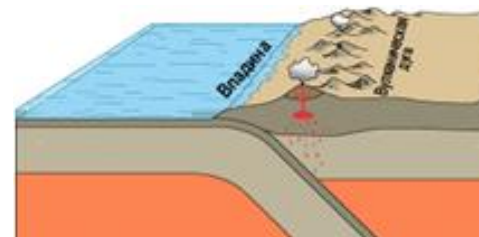


Рисунок 2. Взаимодействие литосферных плит

B4. Укажите, как взаимодействуют литосферные плиты на данном рисунке и назовите их тип (материковая/океаническая)

B5. Какие тектонические процессы сопровождают данное взаимодействие?

B6. Приведите пример территории, где наблюдается данное взаимодействие

C1. Температура океанической воды. От чего зависит, как изменяется в зависимости от географической широты. Льды, их значение.

C2. Классификация стран. По каким признакам можно классифицировать все страны мира. Приведите примеры стран для каждого признака.

